

Wie spät ist es vormittags?

- A 01:5 Uhr
- B 1:05 Uhr
- C 12:05 Uhr
- D 1:01 Uhr



Wie spät ist es vormittags?

- A 10:39 Uhr
- B 07:52 Uhr
- C 10:35 Uhr
- D 07:53 Uhr



Wie spät ist es vormittags?

- A 10:20 Uhr
- B 03:52 Uhr
- C 10:19 Uhr
- D 03:53 Uhr



Wie spät ist es vormittags?

- A 10:10 Uhr
- B 01:55 Uhr
- C 01:49 Uhr
- D 01:54 Uhr



Wie spät ist es nachmittags?

- A 13:5 Uhr
- B 13:05 Uhr
- C 0:05 Uhr
- D 13:01 Uhr



Wie spät ist es nachmittags?

- A 22:39 Uhr
- B 19:52 Uhr
- C 22:35 Uhr
- D 19:53 Uhr



Wie spät ist es nachmittags?

- A 22:20 Uhr
- B 15:52 Uhr
- C 22:19 Uhr
- D 15:53 Uhr



Wie spät ist es nachmittags?

- A 22:10 Uhr
- B 13:55 Uhr
- C 13:49 Uhr
- D 13:54 Uhr



Wie spät ist es in einer drei Viertel Stunde?

- A 05:50 Uhr
- B 05:45 Uhr
- C 05:55 Uhr
- D 06:00 Uhr




Wie spät ist es in einer drei Viertel Stunde?

- A 04:35Uhr
- B 04:40 Uhr
- C 04:45 Uhr
- D 04:50 Uhr



Wie spät ist es in einer drei Viertel Stunde?

- A 11:15Uhr
- B 11:20 Uhr
- C 11:10 Uhr
- D 11:25Uhr



Wie spät ist es in einer drei Viertel Stunde?

- A 07:35 Uhr
- B 06:40 Uhr
- C 07:40 Uhr
- D 08:35 Uhr



Wie spät ist es in einer drei Viertel Stunde?

- A 17:50 Uhr
- B 17:45 Uhr
- C 17:55 Uhr
- D 18:00 Uhr



Wie spät ist es in einer drei Viertel Stunde?

- A 16:35Uhr
- B 16:40 Uhr
- C 16:45 Uhr
- D 16:50 Uhr



Wie spät ist es in einer drei Viertel Stunde?

- A 23:15Uhr
- B 23:20 Uhr
- C 23:10 Uhr
- D 23:25Uhr



Wie spät ist es in einer drei Viertel Stunde?

- A 19:35 Uhr
- B 18:40 Uhr
- C 19:40 Uhr
- D 20:35 Uhr




Wie spät war es
vor einer drei
Viertel Stunde?

- A 05:25 Uhr
- B 04:35 Uhr
- C 04:25 Uhr
- D 05:30 Uhr



Wie spät war es
vor einer drei
Viertel Stunde?

- A 03:05 Uhr
- B 03:10 Uhr
- C 03:15 Uhr
- D 03:00 Uhr



Wie spät war es
vor einer drei
Viertel Stunde?

- A 10:50Uhr
- B 09:50 Uhr
- C 09:55Uhr
- D 10:55Uhr



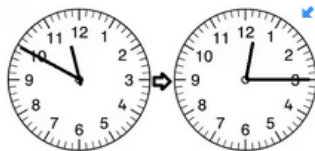
Wie spät war es
vor einer drei
Viertel Stunde?

- A 06:35 Uhr
- B 06:10 Uhr
- C 06:15 Uhr
- D 07:05 Uhr



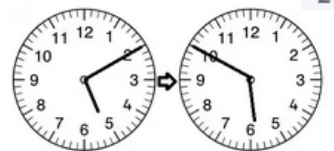
Wie viele Minuten
sind vergangen?

- A 35 Minuten
- B 20 Minuten
- C 25 Minuten
- D 30 Minuten



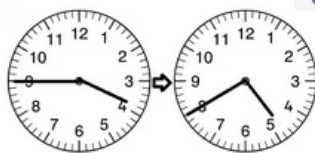
Wie viele Minuten
sind vergangen?

- A 40 Minuten
- B 30 Minuten
- C 35 Minuten
- D 45 Minuten



Wie viele Minuten
sind vergangen?

- A 45 Minuten
- B 50 Minuten
- C 55 Minuten
- D 60 Minuten



Wie viele Minuten
sind vergangen?

- A 115 Minuten
- B 70 Minuten
- C 55 Minuten
- D 65 Minuten

